
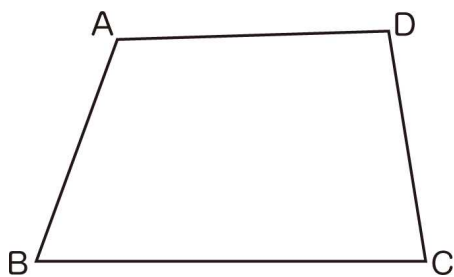


●準備するもの … 教科書、ワークシート、コンパス、分度器、定規

めあて

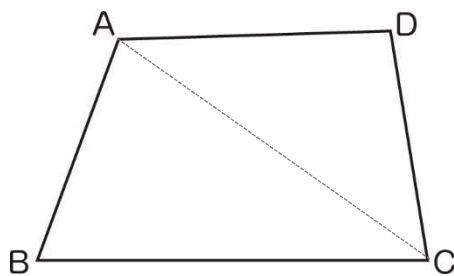
残りの頂点 A、D の位置をどのようにきめればよいか考えよう。

(p.24) 2 四角形 ABCD と合同な四角形をかきましょう。

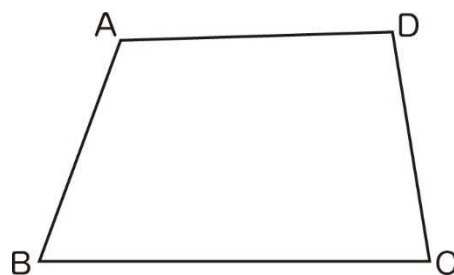


●動画の続きを見てからやりましょう。

①対角線を引いて、2つの三角形を使って頂点 A、頂点 D を決めてかく。




②角の大きさや辺の長さを調べて、頂点 A、頂点 D を決めてかく。

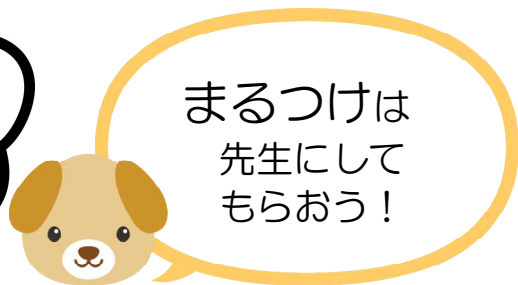
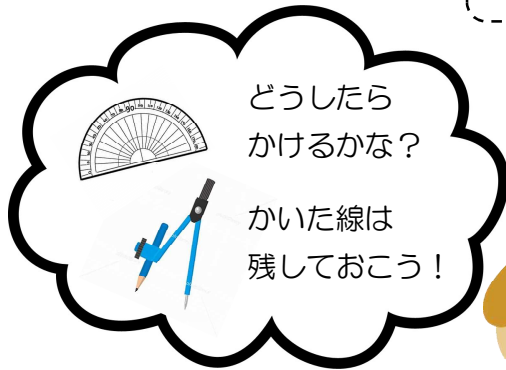
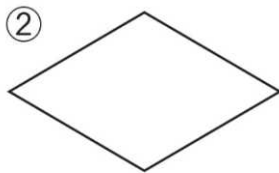


まとめ

合同な三角形のかき方をもとにすれば、合同な四角形をかくことができます。

●動画を最後まで見てからやりましょう。

(p.24)  平行四辺形やひし形と合同な図形をかきましょう。



●ふりかえり