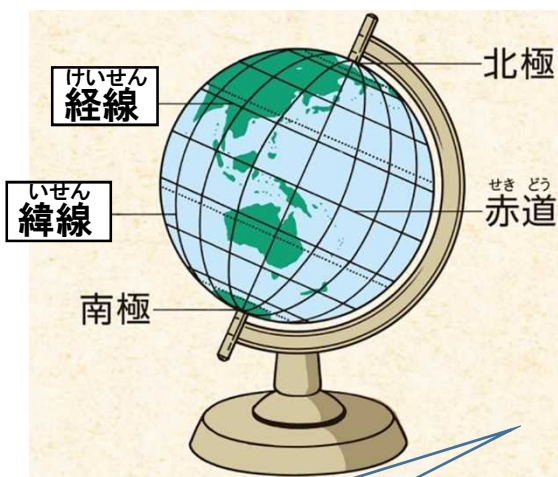


※習っていない漢字は、ひらがなでもよい。

めあて

にほん いち あらわ かた し にほん いち かんが
日本の位置の表し方を知り、日本の位置とはんいについて考えよう。

1. 動画を止めて、にあてはまる言葉や数字を書いてまとめましょう。



① 経線とは？

・経線とは、とを結ぶたての線をいう。

・イギリスを通る線を0度(基準)として、その東側を、西側をという。

・東経と西経は、それぞれ度までである。

② 緯線とは？

・緯線とは、同じを結ぶ横の線をいう。

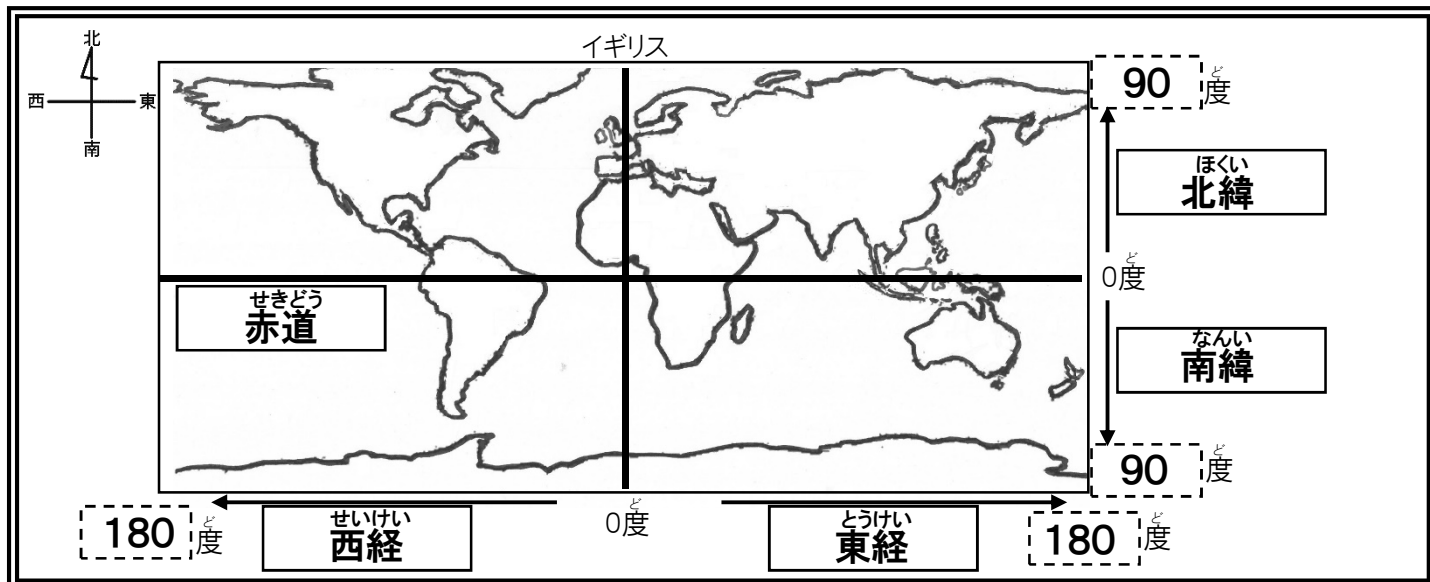
・を0度(基準)として、その北側を

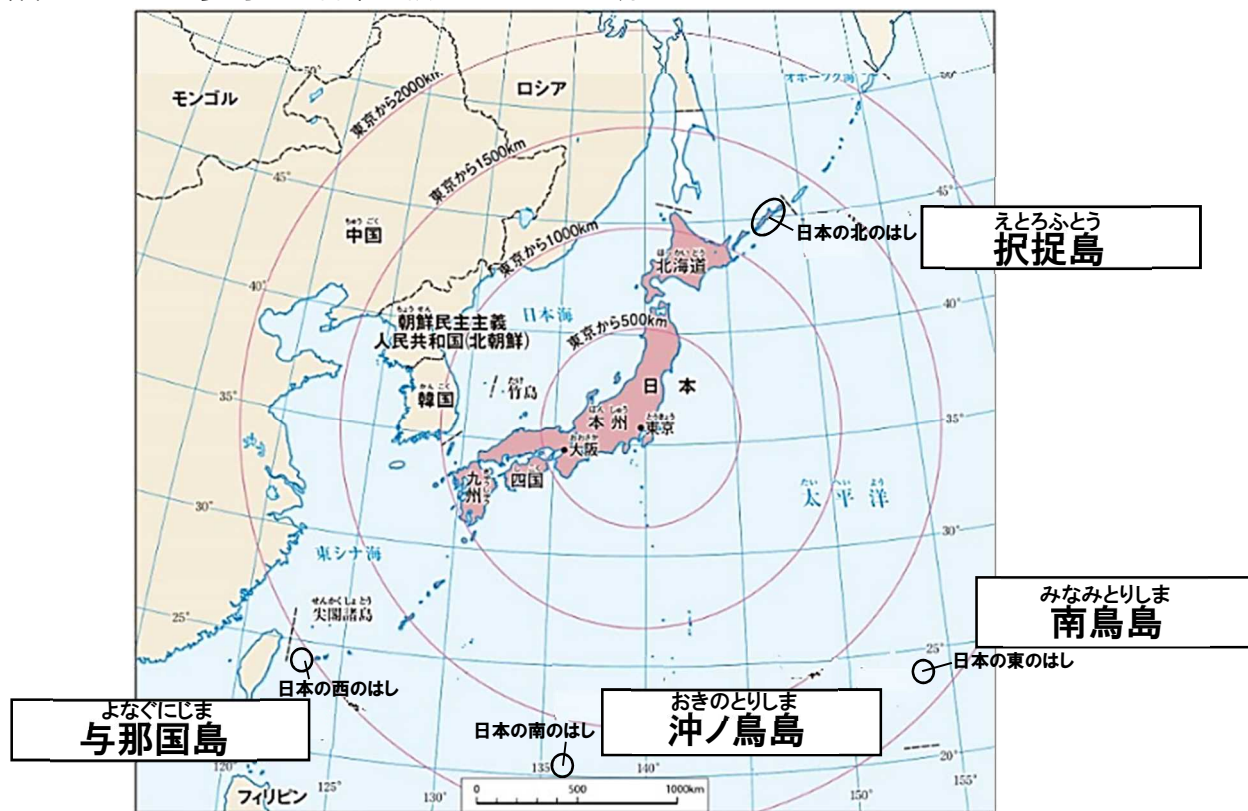
、南側をという。

・北緯と南緯は、それぞれ度までである。

2. 動画を止めて、に言葉を、に数字を書いて下の地図を完成させましょう。

〈ヒント〉180・北緯・西経・90・東経・南緯・赤道 ※2回使うものもあります。





4. 日本のはんいと位置をいろいろな表現で説明しましょう。(P. 15 れんさんたちの話し合い)

大陸を使った表し方

日本は(**ユーラシア**)大陸の東側にあり、南北はおよそ北緯(**20**)度から北緯(**46**)度、東西はおよそ東経(**122**)度から東経(**154**)度までのはんに広がっている。

海を使った表し方

日本は東と南が(**太平洋**)に面していて、(**ユーラシア**)大陸との間にある日本海、日本の西に広がる東シナ海、北のオホーツク海という三つの海にも面している。

国を使った表し方

日本のまわりには、(**大韓民国(韓国)**)や(**中華人民共和国(中国)**)、(**ロシア連邦(ロシア)**)などの国があり、海をへだてて接している。

5. 教科書P. 16～17を参考に、下の文が示す領土の名前をそれぞれ書きましょう。

<p>択捉島、国後島、色丹島、歯舞群島の島々。75年ほど前に、ソビエト連邦に占領され現在もソビエト連邦を引き継いだロシアに不当に占拠されているが、日本固有の領土であるため、日本政府は、これらの島々を返すように、ロシアにはたらきかけ、話し合いを続けている。</p>		<p>ほっぽうりょうど 北方領土</p>
<p>日本固有の領土であるが、現在、韓国が不法に占拠しているため、韓国にくり返し抗議をしている。</p>		<p>たけしま 竹島</p>
<p>日本固有の領土で、その領有については、問題がないにも関わらず、中国が自国の領土であると主張している。</p>		<p>せんかくしょうとう 尖閣諸島</p>

ふりかえり
